

मॉडल प्रैक्टिस सेट - 8

प्रश्नों की कुल संख्या : 100

कुल अनुमत समय : 2 घंटे

Part - A

सामान्य बुद्धि एवं तर्क

1. अभिषेक का जन्म-दिन माह के तीसरे शनिवार को है। उसी माह का तीसरा दिन सोमवार है, तो निम्न में से किस दिनांक को अभिषेक का जन्म-दिन पड़ेगा ?

- (A) 14 (B) 15
(C) 16 (D) 17

2. उज्ज्वल ने अपने घर से पश्चिम की ओर चलना प्रारम्भ किया और 40 किमी० चलकर रुक गया। उसके बाद वहाँ से वह बायीं ओर मुड़कर 30 किमी० तक चला, तो वह अपने घर से कितनी दूर स्थित है ?

- (A) 30 किमी० (B) 40 किमी०
(C) 50 किमी० (D) 70 किमी०

निर्देश—(प्रश्न 3 से 4 तक) : नीचे दिए गए

प्रश्न में से असंगत विकल्प का चयन करें—

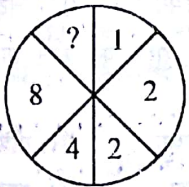
3. (A) 36, 72 (B) 28, 56
(C) 32, 65 (D) 35, 70
4. (A) लेखक (B) पाठक
(C) संवाददाता (D) मुद्रक

5. नीचे दी गई अंक शृंखला में प्रश्नवाचक चिह्न (?) के स्थान पर क्या होगा ?

14, 11, 33, 29, 116, ?

- (A) 111 (B) 136
(C) 464 (D) 380

6. नीचे दी गई आकृति में प्रश्नवाचक चिह्न (?) के स्थान पर क्या होगा ?



- (A) 16 (B) 8
(C) 32 (D) 20

7. यदि किसी कूट भाषा में LOVE को MPWF लिखा जाता है, तो उसी कूट भाषा में WAR को क्या लिखा जाएगा ?

- (A) XBS (B) XAR
(C) XCS (D) VZQ

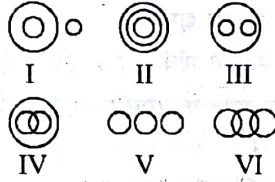
8. यदि किसी कूट भाषा में BOY को 267 लिखा जाता है, तो उसी कूट भाषा में GIRL को क्या लिखा जाएगा ?

- (A) 7993 (B) 7893
(C) 8884 (D) 6678

9. वनिता दक्षिण की ओर चलना प्रारम्भ करती है, एक समकोणिक रास्ते पर दाईं ओर मुड़ जाता है। पुनः थोड़ी दूर जाने पर समकोणिक रास्ते पर दाईं ओर मुड़ जाती है, तो अब वह किसी दिशा की ओर मुँह करके खड़ी है ?

- (A) उत्तर (B) दक्षिण
(C) पूरब (D) पश्चिम

निर्देश—(प्रश्न 10 से 12 तक) : नीचे दी गई आकृति के आधार पर सही विकल्पों का चयन करें—



10. सब्जी, टमाटर, फल

- (A) I (B) III
(C) IV (D) V

11. लड़का, लड़की, छात्र

- (A) I (B) II
(C) IV (D) VI

12. स्तनधारी, गाय, चमगादड़

- (A) II (B) III
(C) I (D) VI

13. एक औरत, एक आदमी की ओर इशारा करते हुए कहती है—“मैं इसके दादा के इकलौते पुत्र की इकलौती पुत्री हूँ”, तो वह औरत उस आदमी से किस प्रकार सम्बन्धित है ?

- (A) माँ (B) बहन
(C) मौसी (D) चाची

14. एक लकड़ी ने एक लड़के का परिचय कराते हुए कहा, “यह मेरे पिता के साले की इकलौती बहन की भाभी का पुत्र है”, तो वह लड़का

उस लड़की से किस प्रकार सम्बन्धित है ?

- (A) ममेरा भाई (B) चचेरा भाई
(C) मौसेरा भाई (D) चाचा

15. यदि दक्षिण-पूरव, पश्चिम हो जाए; उत्तर-पूरव, दक्षिण हो जाए तथा आगे भी परिवर्तन का यही क्रम जारी रहे, तो दक्षिण-पश्चिम किसको कहा जाएगा ?

- (A) उत्तर (B) पूरव
(C) पश्चिम (D) दक्षिण

16. नीचे दी गई अंक-शृंखला में कौन-सा अंक असंगत है ?

1, 4, 3, 16, 6, 36, 7

- (A) 6 (B) 7
(C) 4 (D) 36

17. 42 विद्यार्थियों की एक कक्षा में कांता का क्रम ऊपर से 16वाँ है, तो अंत से उसका क्रम क्या होगा ?

- (A) 16वाँ (B) 15वाँ
(C) 28वाँ (D) 27वाँ

18. यदि किसी कूटभाषा में GARIMA को 725432 तथा TINA को 6482 लिखा जाता है, तो उसी कूट भाषा में MARTINA को क्या लिखा जाएगा ?

- (A) 3256482 (B) 3265842
(C) 3658426 (D) 3645862

19. यदि जल को भोजन, भोजन को वृक्ष, वृक्ष को आकाश तथा आकाश को दीवार कहा जाए, तो इनमें से किस पर फल लगता है ?

- (A) आकाश (B) जल
(C) दीवार (D) वृक्ष

निर्देश—(प्रश्न 20 से 21 तक) : निम्नलिखित प्रत्येक प्रश्न में दिए गए विकल्पों के आधार पर सम्बन्धित जोड़ों का चयन करें—

20. घड़ी : समय :: थर्मामीटर : ?

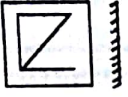
- (A) सूचना (B) तापमान
(C) वायुदाब (D) आर्द्रता

21. NOUN : JKQI :: SIET : ?

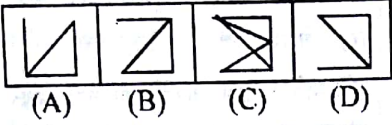
- (A) OEAO (B) OEOA
(C) OESO (D) OAEO

निर्देश—(प्रश्न 22 से 23 तक) : नीचे दी गई प्रश्न आकृति को दर्पण के सामने ले जाने पर निम्नलिखित में से कौन-सी आकृति बनेगी ?

22. प्रश्न-आकृति :



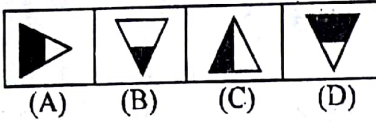
उत्तर-आकृतियाँ :



23. प्रश्न-आकृति :

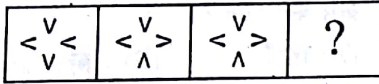


उत्तर-आकृतियाँ :

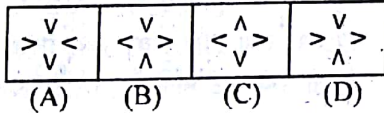


निर्देश—(प्रश्न 24 से 25 तक) : नीचे दी गई आकृति-शृंखला में अगली आकृति क्या होगी ?

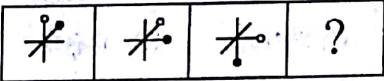
24. प्रश्न-आकृतियाँ :



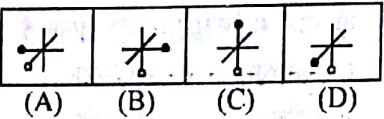
उत्तर-आकृतियाँ :



25. प्रश्न-आकृतियाँ :



उत्तर-आकृतियाँ :



Part - B

सामान्य जानकारी

26. भारत और पाकिस्तान के बीच की सीमा का निर्धारण किसने किया ?
 (A) लॉर्ड माउंटबेटन
 (B) सर कौरिल रेडक्लिफ
 (C) सर स्टेफोर्ड रेडक्लिफ
 (D) लॉरिस

27. ब्रह्माण्ड में विस्फोटी तारा कहलाता है—

- (A) धूमकेतु (B) उल्का
 (C) अभिनव तारा (D) क्लार्क

28. गोआ को पुर्तगालियों से कब आजाद करवाया गया ?

- (A) 1947 में (B) 1945 में
 (C) 1942 में (D) इनमें से कोई नहीं

29. मणिपुर की राजधानी कहाँ है ?

- (A) कोहिमो (B) इम्फाल
 (C) गंगटोक (D) आइजोल

30. 'शाहनामा' किसकी कृति है ?

- (A) फिरदौसी (B) श्री हर्ष
 (C) श्रीधर (D) हेमचन्द्र

31. अन्तिम मुगल शासक बहादुरशाह जफर की मृत्यु कहाँ हुई थी ?

- (A) दिल्ली में (B) रंगून में
 (C) आगरा में (D) ग्वालियर में

32. महात्मा गाँधी की पत्नी का नाम क्या था ?

- (A) कस्तूरबा गाँधी (B) रम्भा देवी
 (C) मेनका देवी (D) उर्वशी देवी

33. भारतीय राष्ट्रीय कांग्रेस के संस्थापक कौन थे ?

- (A) डब्ल्यू. सी. बनर्जी
 (B) ए. ओ. ह्यूम
 (C) महात्मा गाँधी (D) दादा भाई नौरोजी

34. स्वतंत्र भारत के प्रथम भारतीय गवर्नर जनरल कौन थे ?

- (A) लॉर्ड माउण्टबेटन
 (B) मोहम्मद अली जिन्ना
 (C) सी० राजगोपालाचारी
 (D) पं० जवाहरलाल नेहरू

35. प्रार्थना समाज की स्थापना किसने की थी ?

- (A) राजा राममोहन राय
 (B) दयानन्द सरस्वती
 (C) आत्माराम पांडुरंग
 (D) केशवचन्द्र सेन

36. लोकसभा के कार्यकाल की अवधि कितनी होती है ?

- (A) 5 वर्ष (B) 6 वर्ष
 (C) 4 वर्ष (D) निश्चित नहीं है

37. ज्वेल प्रशासन की मुख्य विशेषता क्या थी ?

- (A) सैनिक संगठन
 (B) ग्रामीण स्वायत्तता
 (C) शहरी प्रशासन
 (D) केन्द्रीय शासन

38. रेशम के कीड़े का भोज्य पदार्थ क्या है ?

- (A) घास (B) फूल
 (C) शहतूत की पत्ती (D) इनमें से कोई नहीं

39. निम्नलिखित में से किस शासक ने ग्रांड ट्रंक रोड का निर्माण करवाया था ?

- (A) हुमायूँ (B) बाबर
 (C) शेरशाह सूरी (D) शाहजहाँ

40. निम्नलिखित में से किस स्थान पर सिंधु घाटी सभ्यता का बंदरगाह नगर स्थित है ?

- (A) लोथल (B) कालीबंगा
 (C) मोहनजोदड़ो (D) चन्द्रदड़ो

41. विजयनगर साम्राज्य का हिन्दू राजवंश निम्नलिखित की पराजय से समाप्त हुआ ?

- (A) कृष्णदेव राय (B) रामराज
 (C) हरिहर राय (D) बुक्का राय

42. "ए पैसेज टू इंडिया" पुस्तक किसने लिखी ?

- (A) विक्टर बनर्जी (B) इ० एम० फोर्स्टर
 (C) मीनू मसानी (D) एन० सी० चौधरी

43. स्वतंत्रता प्राप्ति के पश्चात भारतीय राष्ट्रीय कांग्रेस का पहला बार विभाजन कब हुआ ?

- (A) 1969 ई० में (B) 1956 ई० में
 (C) 1971 ई० में (D) 1973 ई० में

44. प्राचीन हिन्दू विधि का लेखक किसको कहा जाता है ?

- (A) वाल्मीकि (B) वशिष्ठ
 (C) मनु (D) पाणिनी

45. चीनी यात्री फाह्यान किसके शासनकाल में भारत आया ?

- (A) कनिष्क (B) चन्द्रगुप्त मौर्य
 (C) चन्द्रगुप्त विक्रमादित्य
 (D) समुद्रगुप्त

46. निम्नलिखित में से कौन-सा विटामिन घाव को भरने में सहायक होता है ?

- (A) विटामिन A (B) विटामिन B
 (C) विटामिन C (D) विटामिन K

47. सर्पदंश से शरीर का कौन-सा भाग प्रभावित होता है ?

- (A) मस्तिष्क (B) तंत्रिका तंत्र
 (C) फेफड़ा (D) हृदय

48. जब किसी काँच की छड़ को रेशम से रगड़ा जाता है, तो छड़ पर कौन-सा आवेश होगा ?

- (A) ऋण-आवेश (B) धन आवेश
 (C) आवेशहीन (D) इनमें से कोई नहीं

49. निम्नलिखित में से कौन रासायनिक प्रतिक्रिया का उदाहरण है ?
 (A) लोहे का चुम्बक बनाना
 (B) मोमबत्ती का जलना
 (C) बर्फ का पिघलना
 (D) इनमें से कोई नहीं
50. गाय का गर्भाधान काल कितने दिनों का होता है ?
 (A) 280 दिन (B) 300 दिन
 (C) 330 दिन (D) 340 दिन

Part - C

प्राथमिक गणित

51. किसी कक्षा में कुछ बेंच हैं। प्रत्येक बेंच पर तीन विद्यार्थियों को बैठाये जाने पर दो विद्यार्थी खड़े रह जाते हैं। अगर प्रत्येक बेंच पर पाँच विद्यार्थियों को बैठाया जाता है, तो चार बेंच खाली रह जाते हैं। विद्यार्थियों की संख्या है—
 (A) 25 (B) 45
 (C) 46 (D) इनमें से कोई नहीं
52. एक नल किसी टंकी को 6 घंटे में भर सकता है। जब टंकी का $\frac{2}{3}$ भाग भर जाता है, तो उसी प्रकार की दो और नल खोल दिये जाते हैं। टंकी को पूरा भरने में कुल लगा समय कितना है?
 (A) 4 घंटा (B) 4 घंटा 20 मिनट
 (C) 4 घंटा 40 मिनट
 (D) 5 घंटा
53. यदि 10 संतरों का क्रय मूल्य 12 संतरों के विक्रय मूल्य के बराबर है, तो प्रतिशत लाभ या हानि है—
 (A) $16\frac{2}{3}\%$ लाभ (B) $16\frac{2}{3}\%$ हानि
 (C) 20% लाभ (D) 20% हानि
54. 20 मजदूर एक खेत की जुताई 5 दिनों में कर सकते हैं। इसी खेत को आधा दिन में जुताई करने के लिए कितने मजदूरों की आवश्यकता होगी?
 (A) 4 (B) 50
 (C) 100 (D) 200
55. $\left(\frac{36\sqrt{6} + 6^{5/2}}{108 \times 12}\right)^2 = 6^n$, तो n का मान है—

- (A) 0 (B) 1
 (C) 2 (D) $\sqrt{6}$
56. $(36 + 37 + 38 + \dots + 99) = ?$
 (A) 3385 (B) 4290
 (C) 4320 (D) 4420
57. $\frac{(216 + 125)^2 + (216 - 125)^2}{216 \times 216 + 125 \times 125} + \frac{1}{2}$ का वर्गमूल है—
 (A) 1 (B) 2
 (C) 3 (D) 4
58. 964528 में 4 का जातीय मान कितना है?
 (A) 4 (B) 400
 (C) 4000 (D) 4528
59. $12 + 6\sqrt{3}$ का वर्गमूल है—
 (A) $2 + \sqrt{3}$ (B) $3 + \sqrt{3}$
 (C) $\sqrt{3} + 1$ (D) $\sqrt{3} - 1$
60. प्रथम 11 प्राकृत संख्याओं के वर्गों का योग है—
 (A) 132 (B) 385
 (C) 506 (D) 576
61. किसी संख्या में 20% की वृद्धि करने के बाद 30% की कमी कर दी जाती है। अंतिम रूप से उस संख्या में—
 (A) 16% की कमी होगी
 (B) 16% की वृद्धि होगी
 (C) 10% की कमी होगी
 (D) 1% की वृद्धि होगी
62. $5\sqrt{38} + 2\sqrt{98} - 4\sqrt{36}$ को सरल करने पर प्राप्त होता है—
 (A) $4\sqrt{01}$ (B) $4\sqrt{20}$
 (C) $4\sqrt{22}$ (D) $3\sqrt{22}$
63. किसी टंकी का $\frac{4}{7}$ भाग 1 घंटा में भर जाता है। शेष भाग भरने के लिए कितना समय और चाहिए?
 (A) 30 मिनट (B) 40 मिनट
 (C) 45 मिनट (D) 65 मिनट
64. 343 लीटर मिश्रण में दूध और पानी 5 : 2 के अनुपात में है। इसमें कितना पानी और डाला जाय कि नये मिश्रण में दूध और पानी का अनुपात 5 : 3 हो?
 (A) 34 लीटर (B) 43 लीटर
 (C) 49 लीटर (D) 25 लीटर

65. एक वर्ग की भुजा को 10% अधिक नापने की त्रुटि हो जाने पर क्षेत्रफल नापने में कितनी त्रुटि होगी?
 (A) 1-75% (B) 10-25%
 (C) 10-75% (D) 21%
66. किसी समबाहु त्रिभुज का क्षेत्रफल $25\sqrt{3}$ वर्ग मी० है, तो त्रिभुज की ऊंचाई (मी० में) है—
 (A) 10 (B) $5\sqrt{3}$
 (C) 15 (D) $30\sqrt{2}$
67. किसी काम को 15 दिनों में 42 व्यक्ति समाप्त कर सकते हैं। किसी अपरिहार्य कारण से कुछ व्यक्ति काम छोड़कर चले जाते हैं, तो शेष व्यक्ति इस काम को 21 दिनों में समाप्त कर पाते हैं। काम छोड़कर जाने वाले व्यक्तियों की संख्या है—
 (A) 5 (B) 7
 (C) 12 (D) 14
68. किसी परीक्षा देने वालों में 540 लड़के और 460 लड़कियाँ हैं। लड़कों के 60% तथा लड़कियों के 80% परीक्षार्थी सफल रहे। फेल होनेवाले परीक्षार्थियों का प्रतिशत था—
 (A) 25% (B) 33-3%
 (C) 30-8% (D) 66-6%
69. एक दुकानदार किसी वस्तु का वि०मू० क्रय मू० से 20% अधिक रखता है। बँचते समय कुछ बढ़टा देता है और 5% से 10% की हानि होती है। उसने निम्नांकित में कौन बढ़टा दिया—
 (A) 20% (B) 25%
 (C) 30% (D) $33\frac{1}{3}\%$
70. एक घन है, जिसकी भुजा 4 सेंमी है। इसी प्रकार की और दो घनों को आपस में जोड़ देने से एक नयी आकृति प्राप्त होती है। उस आकृति का आयतन है (संमी³)—
 (A) 64 (B) 128
 (C) 160 (D) 192
71. अरविन्द को घर से दफ्तर जाने और आने में एक घंटा का समय लगता है तथा वह अपने दफ्तर में सुबह 9 बजे से शाम 4 बजे तक रहता है, तो अरविन्द अपने घर पर दिनभर का कितना प्रतिशत बिताता है ?
 (A) 25% (B) 33%
 (C) $33\frac{1}{3}\%$ (D) $66\frac{2}{3}\%$

72. एक आयताकार मैदान की परिमाप 630 मीटर है तथा इसकी लम्बाई तथा चौड़ाई का अनुपात 5 : 4 है। मैदान का क्षेत्रफल क्या है?
 (A) 10000 वर्ग मी०
 (B) 14400 वर्ग मी०
 (C) 22500 वर्ग मी०
 (D) 24500 वर्ग मी०
73. किसी धन पर 25% वार्षिक दर से 3 वर्ष के अन्त में चक्रवृद्धि ब्याज तथा साधारण ब्याज का अन्तर 975 रु० है। मूलधन क्या है?
 (A) 1600 रु० (B) 3200 रु०
 (C) 4800 रु० (D) 1440 रु०
74. कोई धन चक्रवृद्धि ब्याज पर 3 वर्ष में तिगुना हो जाता है। इसी दर पर यह 27 गुना कितने वर्षों में होगा?
 (A) 3 वर्ष (B) 6 वर्ष
 (C) $7\frac{1}{2}$ वर्ष (D) 9 वर्ष
75. यदि M किसी कार्य का $\frac{3}{5}$ भाग 9 दिनों में करता है और शेष काम को N 10 दिनों में पूरा कर सकता है, तो M और N दोनों मिलकर इस कार्य को कितने दिनों में समाप्त कर सकते हैं?
 (A) $\frac{75}{8}$ दिन (B) 25 दिन
 (C) $\frac{10}{3}$ दिन (D) $\frac{25}{2}$ दिन
76. जीवन की एकरसता जीवन को..... बना देती है।
 (A) सरस (B) नीरस
 (C) मधुर (D) प्रिय
77. भारतीय संविधान में हिन्दी को..... कहा गया है।
 (A) आर्य भाषा (B) सम्पर्क भाषा
 (C) राष्ट्रभाषा (D) राजभाषा
78. मुझे इस कार्यालय..... सभी जानकारियों अतिशीघ्र चाहिए।
 (A) संबंधी (B) की
 (C) में (D) द्वारा
79. 'महोपकाचार' शब्द में कौन-सी संधि है ?
 (A) दीर्घ (B) व्यंजन
 (C) विसर्ग (D) गुण
80. 'परिच्छेद' शब्द का सही संधि विच्छेद क्या है ?
 (A) परि + छेद (B) पर + चछेद
 (C) परिच् + छेद (D) पर + च्छेद
81. निम्नलिखित में शब्दों का विषम संयोजन कौन-सा है ?
 (A) रस्सी-तद्भव (B) सरकारी-फारसी
 (C) लीची-तुर्की (D) पुरोहित-तत्सम
82. निम्नलिखित में कौन-सा भाववाचक संज्ञा नहीं है ?
 (A) लम्बाई (B) बहन
 (C) दया (D) शत्रुता
83. निम्नलिखित किस वाक्य में अकर्मक क्रिया है ?
 (A) गेहूँ पिस रहा है
 (B) मैं बालक को जगता हूँ
 (C) मदन गोपाल को हँसा रहा है
 (D) राम पत्र लिखता है
84. 'वीणापाणि' का पर्यायवाची शब्द है—
 (A) रंभा (B) सरस्वती
 (C) लक्ष्मी (D) कमल
85. निम्नलिखित में से किस शब्द का अर्थ अन्य तीन शब्दों से भिन्न है ?
 (A) घर (B) भुवन
 (C) गृह (D) गेह
86. 'अल्पज्ञ' शब्द के सटीक विलोम शब्द का चयन करें—
 (A) अवज्ञ (B) सर्वज्ञ
 (C) अभिज्ञ (D) कृतज्ञ
87. निम्नलिखित में से कौन-सा जोड़ा विपरीतार्थक नहीं है, उसे चुनें—
 (A) आय-व्यय (B) सरल-कठिन
 (C) गुरु-लघु (D) धर्म-अधर्म
88. 'छाती पर साँप लोटना' मुहावरे का सही अर्थ है—
 (A) कष्ट पहुँचाना (B) दुःखी होना
 (C) छाती जलना (D) ईर्ष्या होना
89. 'जो अधिक बोलता है' को एक शब्द में क्या कहते हैं ?
 (A) वाचाल (B) प्रवक्ता
 (C) नेता (D) सम्मेलन
90. सही शब्द-विन्यास का चयन करें—
 (A) मार्गद्रशक (B) मार्गदर्शक
 (C) मार्गदर्षक (D) मार्गदर्शक
91. 'लपटा पुहुप पराग पर सनी स्वद मकरंद' इस पद पंक्ति में कौन-सा काव्य-दोष है ?
 (A) न्यून पदत्व (B) अधिक पदत्व
 (C) दुष्क्रमत्व (D) ग्राम्यत्व
92. 'सिर से पैर तक का' एक शब्द है—
 (A) सिर-पैर (B) अपादमस्तक
 (C) सम्पूर्ण शरीर (D) इनमें से कोई नहीं
93. 'कनक-कनक' में कौन-सा अलंकार है ?
 (A) श्लेष (B) यमक
 (C) उत्प्रेक्षा (D) उपमा
94. 'उलटे छुरे से मूड़ना' मुहावरे का अर्थ है—
 (A) होशियर बनाना
 (B) मूर्ख बनाकर ठगना
 (C) भाग जाना
 (D) निश्चित होना
95. उत् + ज्वल का सन्धि है—
 (A) उज्वल (B) उज्ज्वल
 (C) उज्जवल (D) उज्जवल
- निर्देश—(प्रश्न 96 से 100 तक) : दिए गए वाक्यों में काले छपे शब्द की वर्तनी शुद्धि के लिए 'चार' विकल्प दिए गए हैं। इनमें से एक विकल्प में शब्द की वर्तनी शुद्ध है। उसे चुनिए :
96. आपका यह व्यवहार सर्वथा गृहणीय है।
 (A) गृहणिय (B) गृहणीय
 (C) गर्हणीय (D) गर्हणिय
97. विक्रमी संवत् ईसवी सन् से 57 वर्ष आगे रहता है।
 (A) संवत् (B) संवत
 (C) सम्वत (D) समवत्
98. विश्लेषण करने पर ज्ञात हुआ कि वह उसकी अपनी रचना नहीं थी।
 (A) विशलेषण (B) विश्लेषण
 (C) विशलेशण (D) वीश्लेषण
99. ग्यान का भंडार अथाह होता है।
 (A) गियान (B) ज्ञान
 (C) गिआन (D) ज्यान
100. जो इन्द्रियों को वश में कर लेता है उसे जितिन्द्रिय कहते हैं।
 (A) जितेन्द्रिय (B) जितीन्द्रिय
 (C) जितेन्द्रिया (D) जितिन्द्रय

Part - D

सामान्य हिन्दी

निर्देश—(प्रश्न 76 से 78 तक) : रिक्त स्थानों की पूर्ति हेतु उपयुक्त विकल्प चुनिए—

76. जीवन की एकरसता जीवन को..... बना देती है।
 (A) सरस (B) नीरस
 (C) मधुर (D) प्रिय
77. भारतीय संविधान में हिन्दी को..... कहा गया है।
 (A) आर्य भाषा (B) सम्पर्क भाषा
 (C) राष्ट्रभाषा (D) राजभाषा
78. मुझे इस कार्यालय..... सभी जानकारियों अतिशीघ्र चाहिए।
 (A) संबंधी (B) की
 (C) में (D) द्वारा

General English

Directions—(Q. 76 to 80) : Four alternatives are given for the Idiom/Phrase **Bold** in the sentence. Choose the alternative which best expresses the meaning of the Idiom/Phrase and mark it in the Answer-Sheet.

76. Don't worry about the silly row. It was just a **storm in a tea cup**.
 (A) important matter dealt with ease
 (B) hot tea being served
 (C) commotion over a trivial matter
 (D) confusion and chaos
77. The Rajput warriors **set their face against** the invader.
 (A) became enemies
 (B) turned away from
 (C) faced difficulty
 (D) opposed strongly
78. Syria is now **currying favour with** America.
 (A) pleasing (B) favouring
 (C) obliging
 (D) ingratiating itself with
79. Our Principal is not a man **to mince matters**.
 (A) to confuse issues
 (B) to say something mildly
 (C) to mix everything together
 (D) to be very modest
80. We tend **to take for granted** the conveniences of modern life.
 (A) to consider (B) to admit
 (C) to accept readily
 (D) to care for

Directions—(Q. 81 to 85) : Out of the four alternatives, choose the one which can be substituted for the given words/sentence and indicate it by blackening the appropriate rectangle in the Answer-Sheet.

81. Belief that God is in everything and that everything is God—
 (A) Atheism (B) Pantheism
 (C) Scepticism (D) Animism
82. A picture of a person or a thing drawn in such a highly exaggerated manner as to cause laughter—
 (A) Cartoon (B) Cacography
 (C) Cartography (D) Caricature

83. The state of being miserable bereft of all possessions—
 (A) Dependant (B) Complacent
 (C) Destitute (D) Omnipresent
84. That which cannot be called back—
 (A) Irresponsible (B) Irrevocable
 (C) Irredeemable (D) Incalculable
85. One who journeys from place to place—
 (A) Quack (B) Cannibal
 (C) Itinerant (D) Courier

Directions—(Q. 86 to 90) : You have a brief passages with five questions following each passage. Read the passages carefully and choose the best answer to each question out of the four alternatives and mark it in the Answer-Sheet.

PASSAGE

Read not to contradict and confuse, nor to believe and take for granted, nor to find talk and discourse, but to weigh and consider. Some books are to be tasted, others to be swallowed, and some few to be chewed and digested. That is some books are to be read only in parts; others to be read, but not curiously; and some few to be read wholly, and with diligence and attention. Some books may also be read by deputy, and extracts made of them by others but that would be only in the less important arguments and the meaner sort of books; else distilled books are like common distilled waters, flashy things. Reading maketh a full man, conference a ready man and writing an exact man.

86. What should be the purpose of reading a book?
 (A) To contradict
 (B) To weigh and consider
 (C) To take it for granted
 (D) To understand the contents
87. Why are some books to be tasted?
 (A) To be read with great care
 (B) To be read with great attention
 (C) To be read only in parts
 (D) To be read for fun
88. How is man's character influenced by the art of writing?
 (A) It makes him a great writer
 (B) It makes him a ready man
 (C) It makes him a full man
 (D) It makes him an exact man
89. What kind of books is to be read by the deputy?
 (A) Extraordinary books
 (B) Ordinary books

- (C) Interesting books
 (D) Meaner sort of books

90. What is meant by "chewed and digested" ?
 (A) Thoroughly read and understood
 (B) Partly read and understood
 (C) Understood without any effort
 (D) None of the above

Directions—(Q. 91 to 95) : Some of the sentences have errors and some have none. Find out which part of a sentence has an error and blacken the rectangle corresponding to the appropriate letter (A), (B) or (C). If there is no error, blacken the rectangle corresponding to the letter (D) in the Answer-sheet.

91. The whole country (A) / was suffering by (B) / a financial crisis (C). / No Error. (D)
92. I do not know where could he have gone (A) / so early (B) / in the morning (C). / No Error. (D)
93. I suggest that (A) / he goes (B) / to the doctor as soon as he returns from taking the examination (C). / No Error. (D)
94. The introduction of tea and coffee (A) / and such other beverages (B) / have not been without some effect (C). / No Error. (D)
95. In spite of the roadblock (A) / the guards allowed us (B) / enter the restricted area to search for our friends (C). / No Error. (D)

Directions—(Q. 96 to 100) : Out of the four alternatives, choose the one which **best expresses** the meaning of the given word and mark it in the Answer-Sheet.

96. **ILLICIT**
 (A) Immoral (B) Illegal
 (C) Ineligibel (D) Illegibel
97. **FLAIR**
 (A) Talent (B) Tendency
 (C) Bias (D) Need
98. **CONSERVATION**
 (A) Preservation (B) Respiration
 (C) Correction (D) Confusion
99. **ABYSMAL**
 (A) Sickening (B) Gloomy
 (C) Sad (D) Bottomless
100. **SALIENT**
 (A) Valiant (B) Variant
 (C) Prudent (D) Prominent